


Leçon

L'aire d'une figure

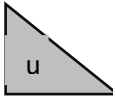
L'aire d'une figure c'est la mesure de l'intérieur de la figure c'est-à-dire de sa surface.



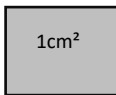
Pour calculer l'aire de la figure on utilise une unité et on cherche le nombre d'unité d'aire qu'elle contient.




Aire = 12 unités



Aire = 24 unités



Aire = 12 cm²

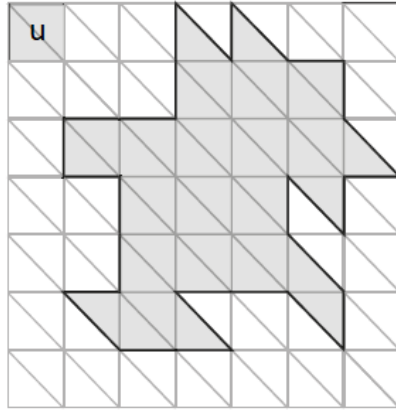
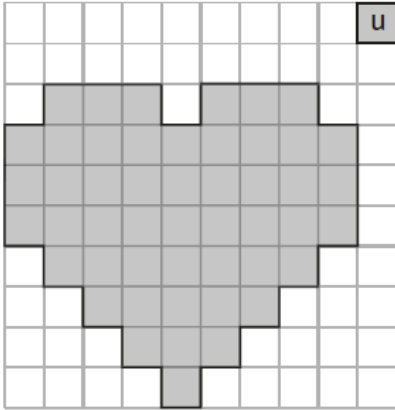


Aire = 12 m²

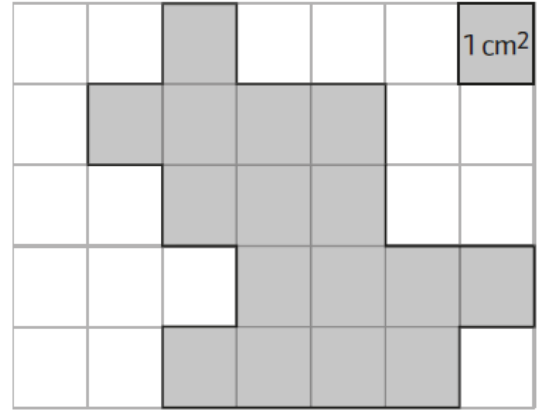
Exercices

Exercice n°1 : Calcule l'aire de chaque figure en fonction de l'unité proposée

A

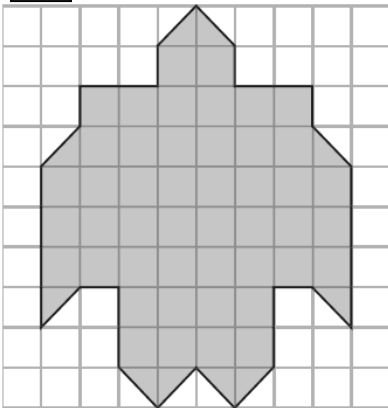


C

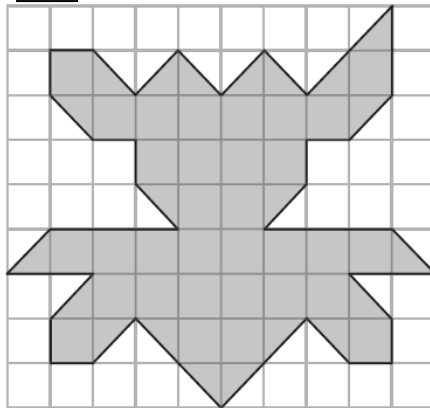


Exercice n°2 : Calcule l'aire de chaque figure en fonction de l'unité proposé

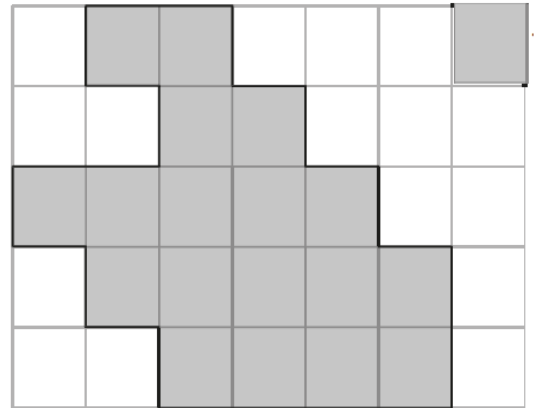
1



2



3



- Avec l'unité :
- Avec l'unité :
- Avec l'unité :
- Avec l'unité :

Aire : cm²

Exercice n°3 : Classe ces figures du plus petit au plus grand

