

Nom _____

Prénom _____

Date ____/____/____

<https://laclasselleve.fr/>

1. Ecris ces fractions en lettres.

a) $\frac{1}{5}$ b) $\frac{7}{2}$ c) $\frac{4}{6}$ d) $\frac{3}{4}$ e) $\frac{6}{8}$ f) $\frac{9}{3}$ g) $\frac{5}{12}$ h) $\frac{8}{7}$ i) $\frac{20}{100}$

un cinquième

trois quarts

cinq douzièmes

sept demis

six huitièmes





huit septièmes

quatre sixièmes

neuf tiers

vingt centièmes

2. Ecris les fractions représentées par les parties coloriées.



A $\frac{1}{4}$

B $\frac{4}{9}$

C $\frac{2}{6}$

d $\frac{5}{8}$

$\frac{3}{5}$



Ecris la fraction B en lettres!

quatre neuvièmes

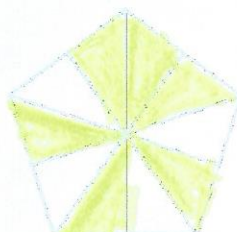
3. Colorie pour obtenir la fraction demandée.



$\frac{2}{3}$



$\frac{3}{5}$



$\frac{6}{10}$



$\frac{4}{9}$



$\frac{7}{8}$

Peu importe quelles cases vous choisissez de colorier, le principal est de respecter la fraction demandée.